


Aufgabe: Miss folgende Strecken und gib das Maß in cm und mm an !



Aufgabe: Zeichne auf einem Rechenblatt folgende Strecken !

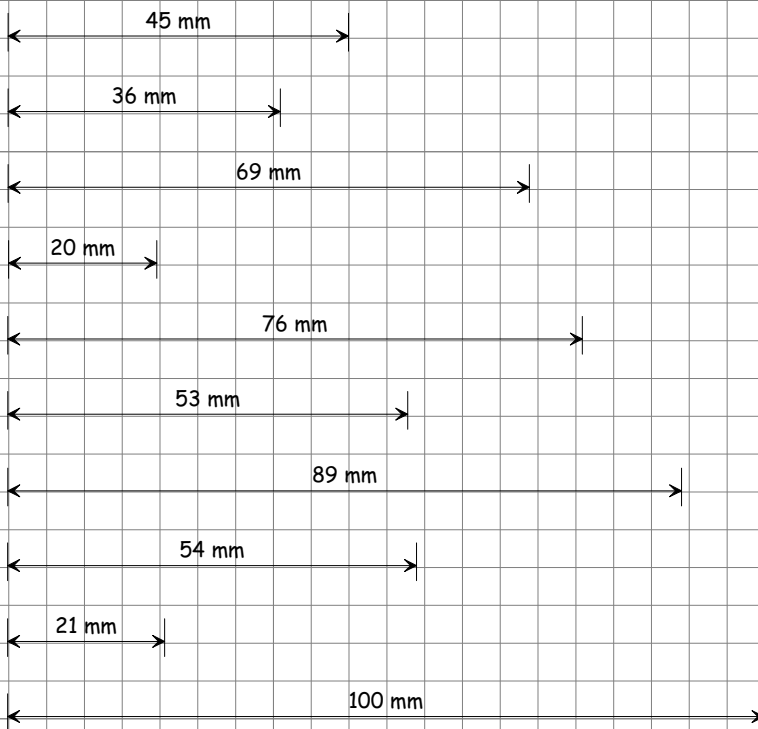
23 mm	28 mm	36 mm	19 mm	50 mm
46 mm	51 mm	59 mm	42 mm	73 mm
21 mm	26 mm	34 mm	17 mm	48 mm
11 mm	16 mm	24 mm	7 mm	38 mm

Aufgabe: Wandle die Einheiten entsprechend um !

mm	638			
cm		417		
dm			205	
m				105

mm	357,34			
cm		310,98		
dm			680,39	
m				813,00

Aufgabe: Miss folgende Strecken und gib das Maß in cm und mm an !



Aufgabe: Zeichne auf einem Rechenblatt folgende Strecken !

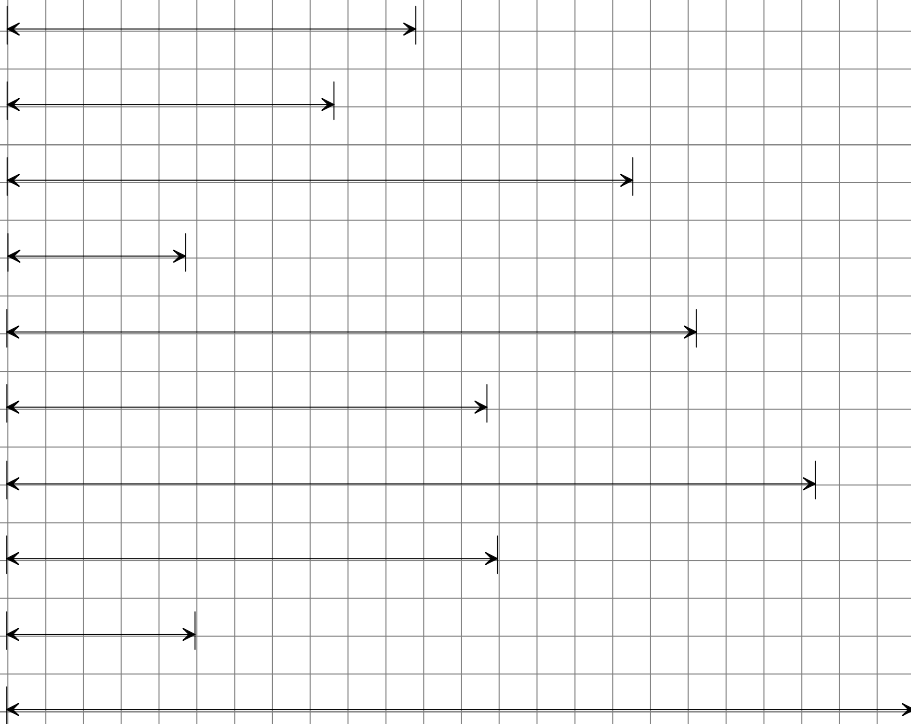
23 mm	28 mm	36 mm	19 mm	50 mm
46 mm	51 mm	59 mm	42 mm	73 mm
21 mm	26 mm	34 mm	17 mm	48 mm
11 mm	16 mm	24 mm	7 mm	38 mm

Aufgabe: Wandle die Einheiten entsprechend um !

mm	638			
cm		417		
dm			205	
m				105

mm	357,34			
cm		310,98		
dm			680,39	
m				813,00

Aufgabe: Miss folgende Strecken und gib das Maß in cm und mm an !



Aufgabe: Zeichne auf einem Rechenblatt folgende Strecken !

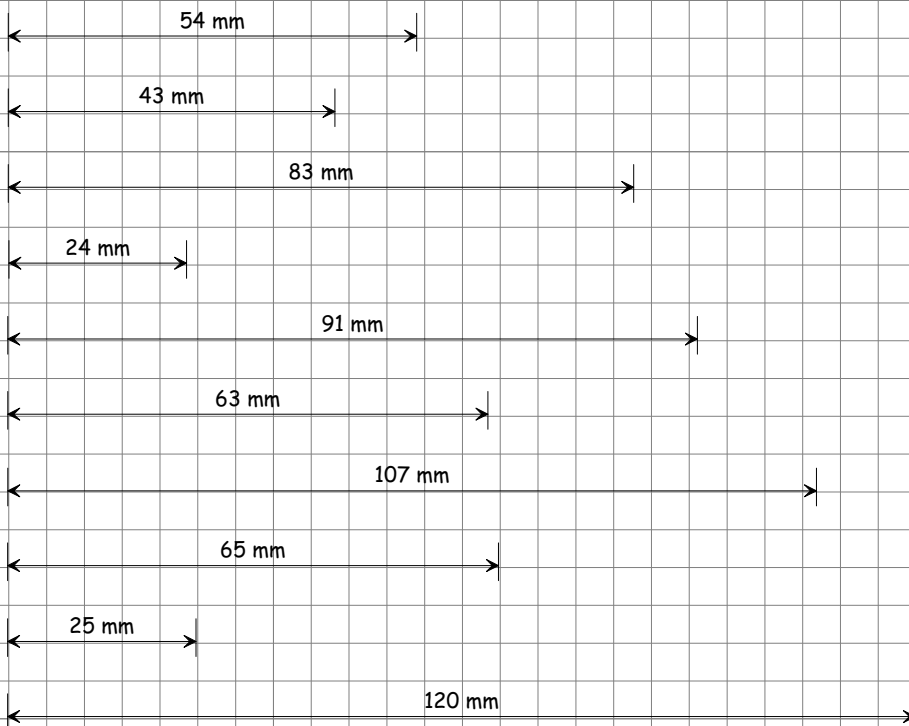
20 mm	25 mm	33 mm	16 mm	47 mm
43 mm	48 mm	56 mm	39 mm	70 mm
18 mm	23 mm	31 mm	14 mm	45 mm
8 mm	13 mm	21 mm	4 mm	35 mm

Aufgabe: Wandle die Einheiten entsprechend um !

mm	398			
cm		706		
dm			819	
m				698

mm	571,01			
cm		710,35		
dm			432,19	
m				1009,19

Aufgabe: Miss folgende Strecken und gib das Maß in cm und mm an !



Aufgabe: Zeichne auf einem Rechenblatt folgende Strecken !

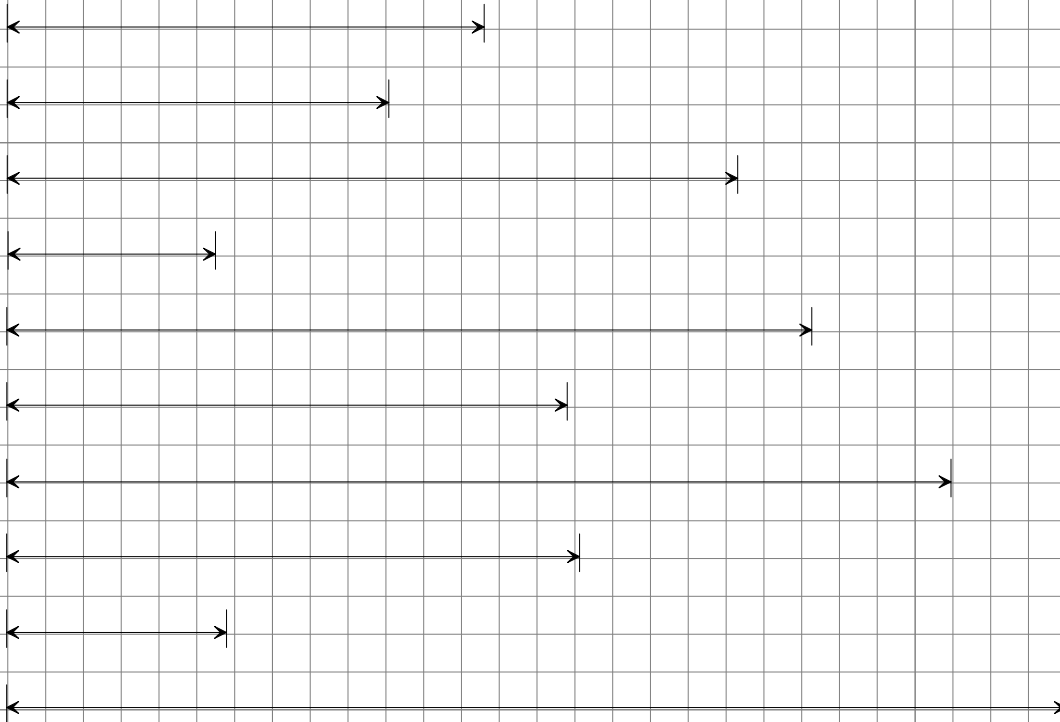
- | | | | | |
|-------|-------|-------|-------|-------|
| 20 mm | 25 mm | 33 mm | 16 mm | 47 mm |
| 43 mm | 48 mm | 56 mm | 39 mm | 70 mm |
| 18 mm | 23 mm | 31 mm | 14 mm | 45 mm |
| 8 mm | 13 mm | 21 mm | 4 mm | 35 mm |

Aufgabe: Wandle die Einheiten entsprechend um !

mm	398			
cm		706		
dm			819	
m				698

mm	571,01			
cm		710,35		
dm			432,19	
m				1009,19

Aufgabe: Miss folgende Strecken und gib das Maß in cm und mm an !



Aufgabe: Zeichne auf einem Rechenblatt folgende Strecken !

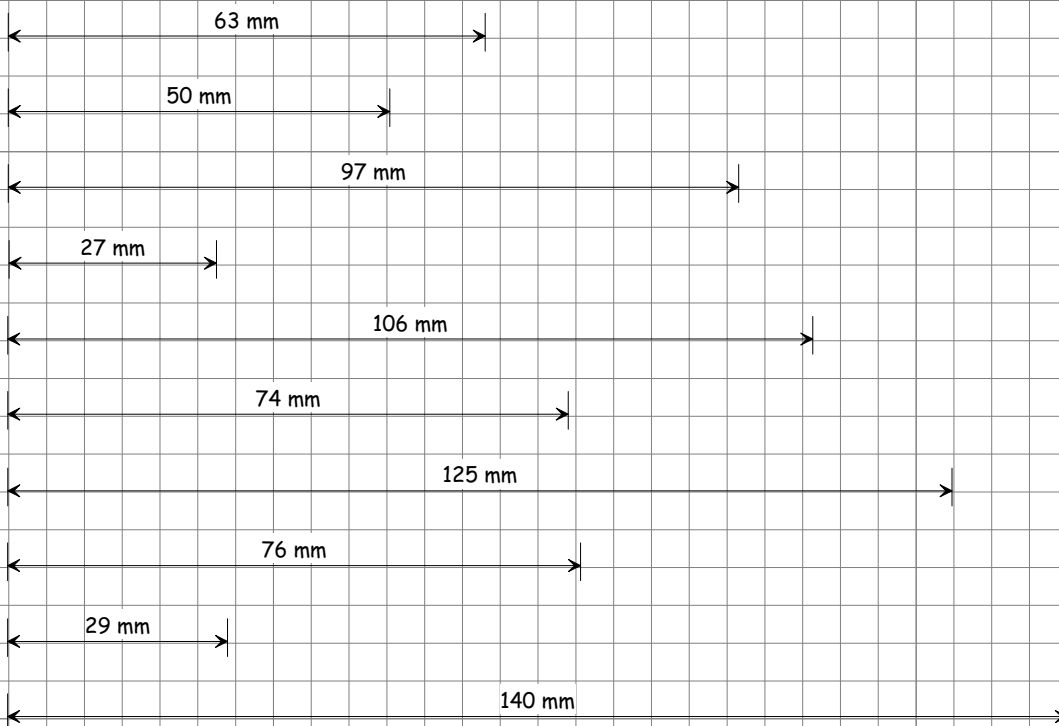
17 mm	22 mm	30 mm	13 mm	44 mm
40 mm	45 mm	53 mm	36 mm	67 mm
15 mm	20 mm	28 mm	11 mm	42 mm
5 mm	10 mm	18 mm	1 mm	32 mm

Aufgabe: Wandle die Einheiten entsprechend um !

mm	71			
cm		487		
dm			788	
m				80

mm	557,22			
cm		963,28		
dm			306,16	
m				668,99

Aufgabe: Miss folgende Strecken und gib das Maß in cm und mm an !



Aufgabe: Zeichne auf einem Rechenblatt folgende Strecken !

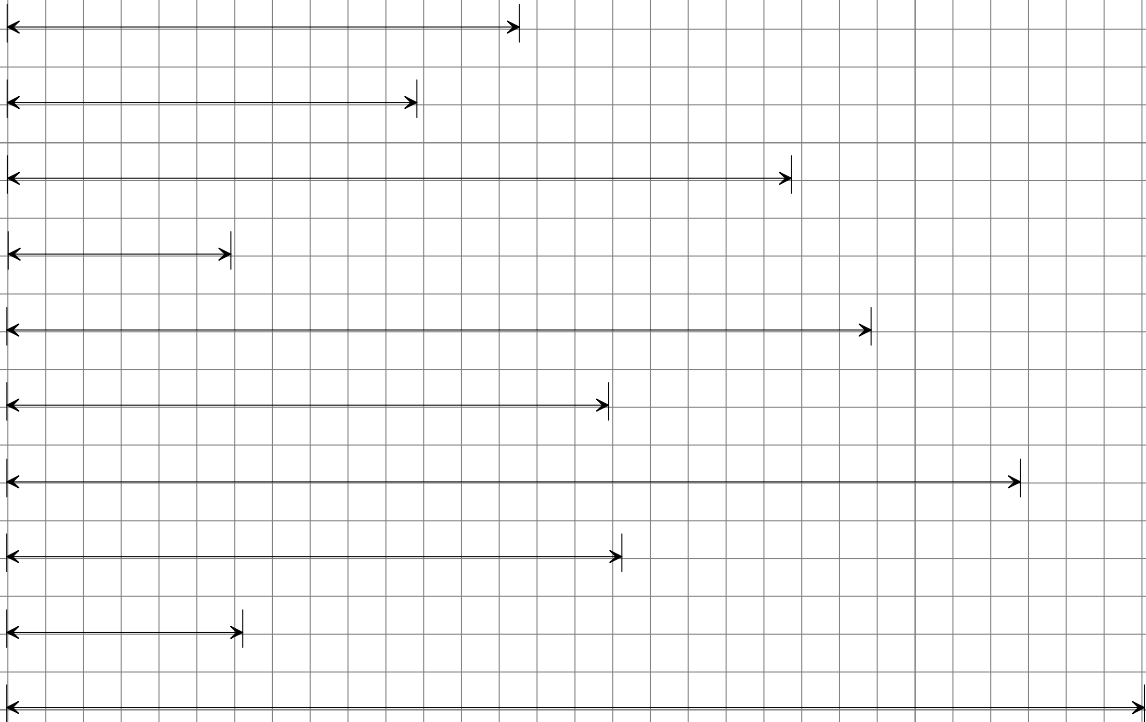
17 mm	22 mm	30 mm	13 mm	44 mm
40 mm	45 mm	53 mm	36 mm	67 mm
15 mm	20 mm	28 mm	11 mm	42 mm
5 mm	10 mm	18 mm	1 mm	32 mm

Aufgabe: Wandle die Einheiten entsprechend um !

mm	71			
cm		487		
dm			788	
m				80

mm	557,22			
cm		963,28		
dm			306,16	
m				668,99

Aufgabe: Miss folgende Strecken und gib das Maß in cm und mm an !



Aufgabe: Zeichne auf einem Rechenblatt folgende Strecken !

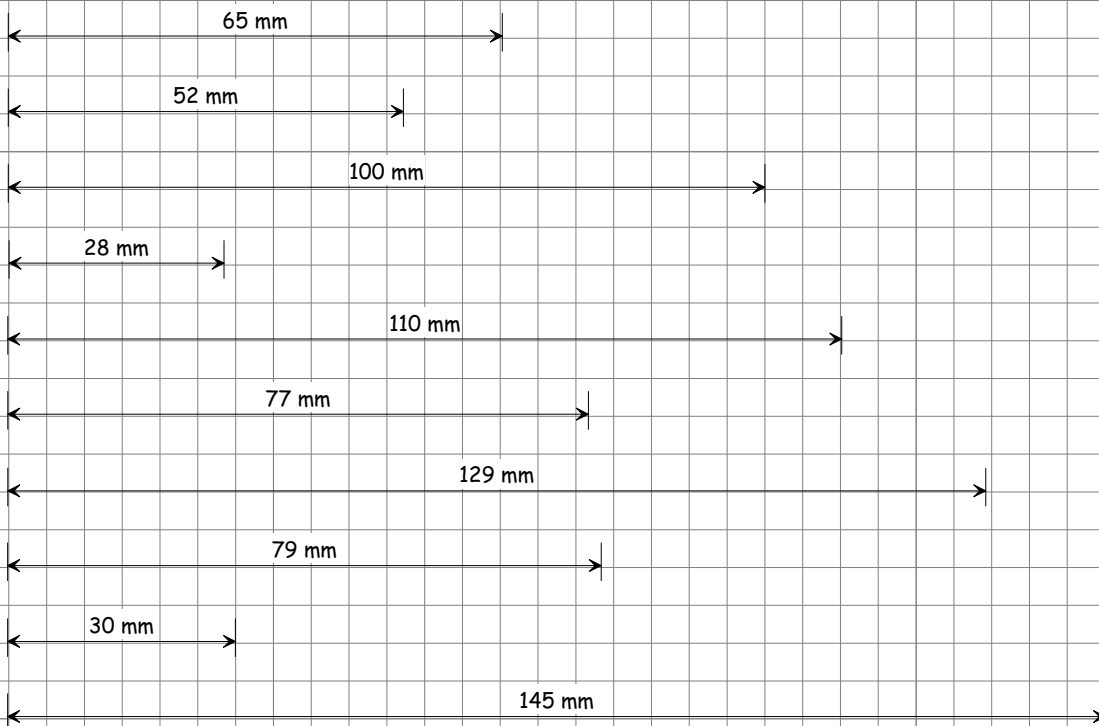
25 mm	30 mm	38 mm	21 mm	52 mm
48 mm	53 mm	61 mm	44 mm	75 mm
23 mm	28 mm	36 mm	19 mm	50 mm
13 mm	18 mm	26 mm	9 mm	40 mm

Aufgabe: Wandle die Einheiten entsprechend um !

mm	238			
cm		646		
dm			113	
m				968

mm	381,40			
cm		465,04		
dm			880,90	
m				52,31

Aufgabe: Miss folgende Strecken und gib das Maß in cm und mm an !



Aufgabe: Zeichne auf einem Rechenblatt folgende Strecken !

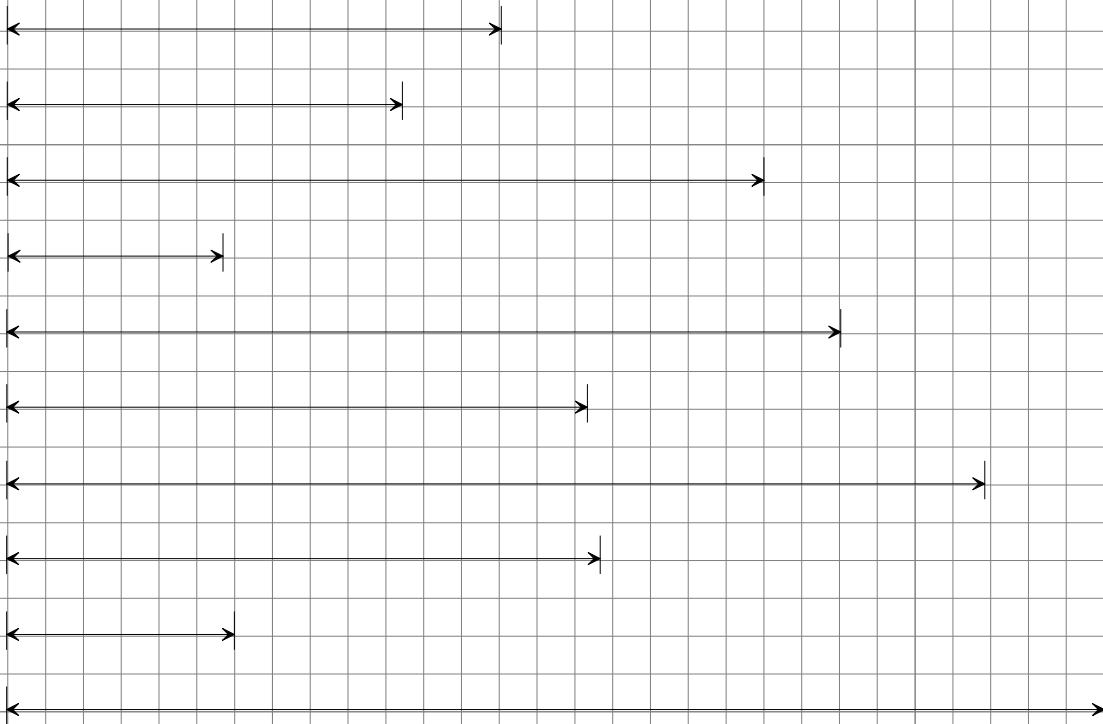
31 mm	36 mm	44 mm	27 mm	58 mm
54 mm	59 mm	67 mm	50 mm	81 mm
29 mm	34 mm	42 mm	25 mm	56 mm
19 mm	24 mm	32 mm	15 mm	46 mm

Aufgabe: Wandle die Einheiten entsprechend um !

mm	107			
cm		970		
dm			465	
m				76

mm	452,25			
cm		1000,94		
dm			415,93	
m				397,13

Aufgabe: Miss folgende Strecken und gib das Maß in cm und mm an !



Aufgabe: Zeichne auf einem Rechenblatt folgende Strecken !

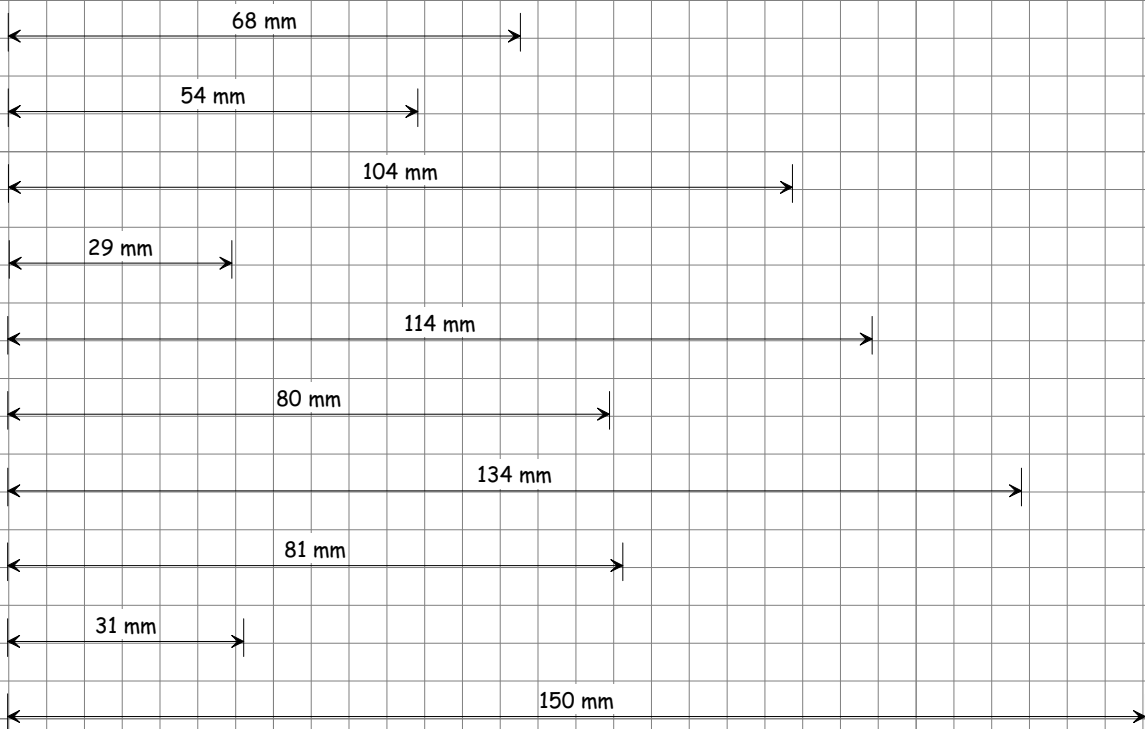
31 mm	36 mm	44 mm	27 mm	58 mm
54 mm	59 mm	67 mm	50 mm	81 mm
29 mm	34 mm	42 mm	25 mm	56 mm
19 mm	24 mm	32 mm	15 mm	46 mm

Aufgabe: Wandle die Einheiten entsprechend um !

mm	107			
cm		970		
dm			465	
m				76

mm	452,25			
cm		1000,94		
dm			415,93	
m				397,13

Aufgabe: Miss folgende Strecken und gib das Maß in cm und mm an !



Aufgabe: Zeichne auf einem Rechenblatt folgende Strecken !

25 mm	30 mm	38 mm	21 mm	52 mm
48 mm	53 mm	61 mm	44 mm	75 mm
23 mm	28 mm	36 mm	19 mm	50 mm
13 mm	18 mm	26 mm	9 mm	40 mm

Aufgabe: Wandle die Einheiten entsprechend um !

mm	238			
cm		646		
dm			113	
m				968

mm	381,40			
cm		465,04		
dm			880,90	
m				52,31